

暑假作業檢核表

二年_____班 姓名_____ 座號_____

請小朋友完成以下的活動，每當完成一項活動，就將圖片塗上顏色，並請家長簽名。

< 暑假作業詳細內容說明請參閱以下一頁 >

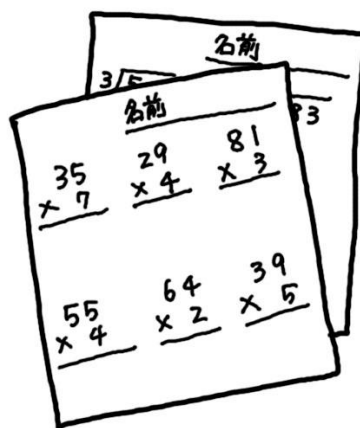
① 國語第 1~12 課生字和詞語各

寫 1 次



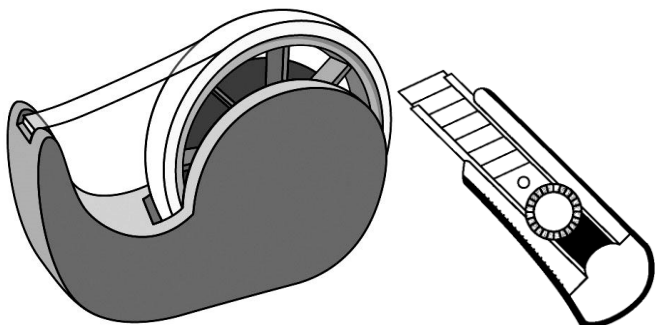
家長簽名_____

② 完成 9 張數學練習卷



家長簽名_____

③ 準備午餐餐椅防疫隔板(可自製)



家長簽名_____

④ 每週跳健康操 3 次



家長簽名_____

暑假作業內容說明

- 一、國語生字和詞語可自行準備格子簿或白紙習寫。
- 二、數學練習卷請自行列印，不方便列印的同學請在白紙上，不必抄題，但要把單元名稱和題號標示清楚。
- 三、自製午餐餐防疫隔板。

教育局 110.05.28 來文，為因應疫情及各級學校復課後之用餐需求，建議各校於停課期間，進行防疫隔板之規劃製作如下：

(一)高級中等以下各階段學校

- 1、以學生自備為原則，可納入作為學生在停課期間自主學習作業。
- 2、可用紙箱、塑膠瓦楞板或其他材料，完成個人用「」字型隔板。
- 3、部分無法於停課期間完成者，則於復課當天上午製作完成。

為利學生後續操作，已將製作防疫隔板建議規格、DIY 教學影片及簡易教學流程建置於以下網址歡迎各校（園）參考使用。

網址：<https://www.youtube.com/watch?v=ntygRwSZqJE>


QR CODE



- 四、每週跳健康操 3 次。

影片連結：<https://www.youtube.com/watch?v=qCq2RrX2FpM>

QR CODE

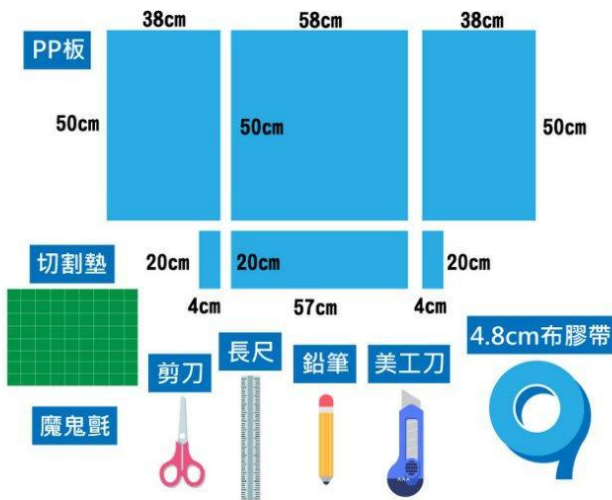


- 五、開學當天，請將暑假作業檢核表、國語作業、數學練習卷和午餐餐防疫隔板帶至學校，祝大家暑假健康愉快！

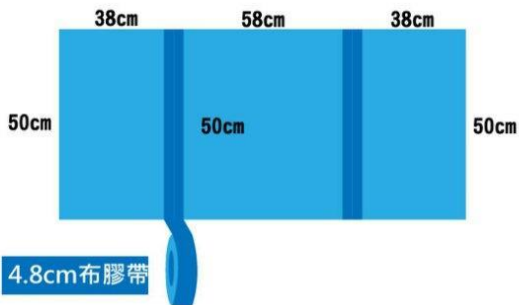
臺北市高國中小版 午餐防疫隔板製作教學表



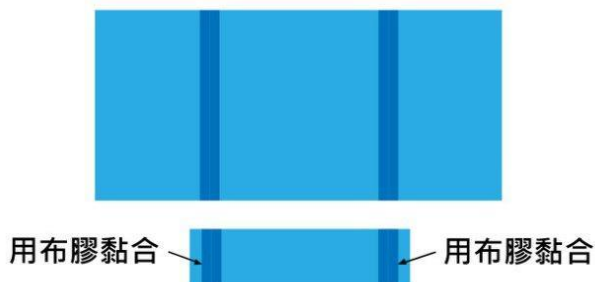
1 STEP 材料準備(PP板-尺寸如下、切割墊、剪刀、長尺、鉛筆、美工刀、4.8cm布膠帶、魔鬼氈)



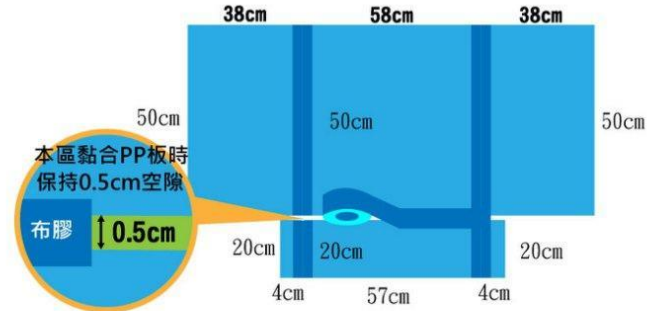
2 STEP 將圖下這3張尺寸PP板，用布膠帶黏合起來。



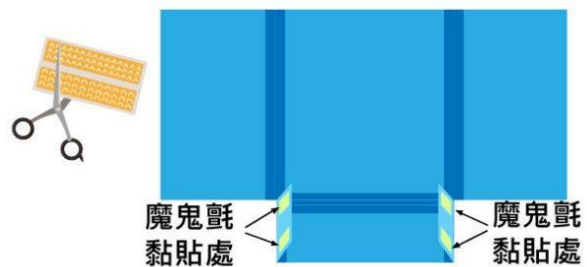
3 STEP 將底下兩張4cm×20cmPP板及57cm×20cmPP板用布膠黏合。



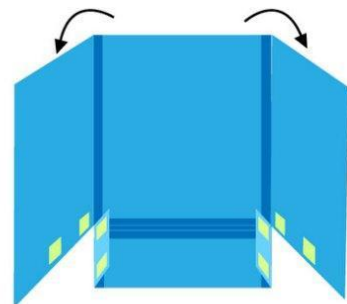
4 STEP 將下方20cm尺寸PP板，與主隔板用布膠黏合，黏合時，PP板之間要預留0.5cm寬度。



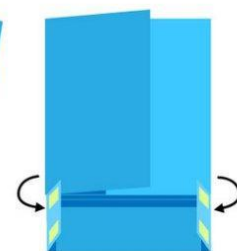
5 STEP 用剪刀將魔鬼氈剪成約3cm正方形大小共四組，並將魔鬼氈上下兩片黏合，撕開背膠，黏貼在下方四個位置。



6 STEP 將左右兩翼PP板往內摺，黏貼下緣魔鬼氈黏貼處。



7 STEP 完成作品(隔板收納時，左右隔板往前摺，下端20cmPP板往後摺)。



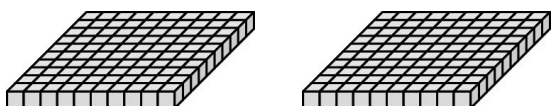
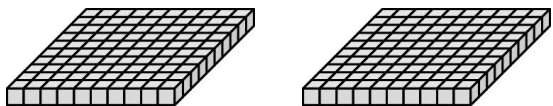
實作影片

數學第四冊第 1 單元 數到 1000

二年_ニ年_ニ 班_ニ 座_ニ號_ニ 姓_ニ名_ニ

一、數_一一_一數_一，下_下面_面的_的積_積木_木合_合起_起來_來和_和幾_幾個_個一_一樣_樣多_多？

共 3 分



□ □ □ □ □
□ □ () 個 □

二、寫_寫出_出阿_阿拉_拉伯_伯數_數字_字或_或國_國字_字。每題 3 分，共 15 分

- 八_八百_百一_一十_十寫_寫作_作 ()。
- 六_六百_百零_零四_四寫_寫作_作 ()。
- 826 讀_讀作_作 ()。
- 1000 讀_讀作_作 ()。
- 350 讀_讀作_作 ()。

三、填_填入_入適_適當_當的_的數_數。每格 2 分，共 14 分

- $700 - 600 - 500 - ()$
- $557 - 558 - () - () - 561$
- $905 - () - () - 935 - 945$
- $410 - () - 408 - 407 - ()$

四、在_在 () 裡_裡填_填入_入 >、< 或 =。每題 4 分，共 16 分

- 609 () 906
- 七_七百_百一_一十_十五_五 () 705
- 一_一千_千 () 1000
- 499 () 四_四百_百九_九十_十

五、填_填填_填看_看。每格 4 分，共 28 分

- 730 的_的十_十位_位數_數字_字是_是 ()，百_百位_位數_數字_字是_是 ()。
- 904 是_是 () 個_個百_百、() 個_個十_十和_和 () 個_個一_一合_合起_起來_來的_的。
- 6 個_個百_百和_和 12 個_個一_一合_合起_起來_來是_是 ()。
- 5 個_個百_百、18 個_個十_十和_和 4 個_個一_一合_合起_起來_來是_是 ()。

六、做_做做_做看_看。每題 8 分，共 24 分

- 小_小君_君有_有 494 元_元，小_小可_可有_有 608 元_元。
 - () 的_的錢_錢比_比較_較多_多。
 - 小_小可_可想_想買_買一_一個_個 600 元_元的_的玩_玩具_具，他_他的_的錢_錢夠_夠不_不夠_夠？
()
- 用_用 100 表_表示_示 100，10 表_表示_示 10，1 表_表示_示 1，畫_畫出_出 763。

(3) 圈_圈出_出 578 元_元。



數學第四冊第2單元 加加減減

二年_ニ年_ニ 班_ニ 號_ニ：

姓_ニ名_ニ：

一、用直式計算看。每題7分，共28分


(1) $463 + 294$
= ()

(2) $708 - 153$
= ()

(3) $637 + 166$
= ()

(4) $632 - 415$
= ()

二、看圖做做看。每小題8分，共32分



(1) 最接近答案的在□中打✓。

① 買一件衣服和一個皮包，共要幾元？

400元 500元 600元

② 小樂有800元，買一雙鞋子後，還剩下幾元？

300元 400元 500元

(2) 小美有90元，想買一頂帽子，不夠幾元？

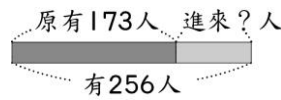
答：() 元

(3) 最貴的物比最便宜的物多幾元？

答：() 元

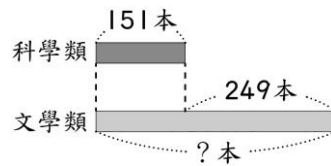
三、把做法用算式記下來。每題10分，共40分

(1) 溜冰場裡原有173人，進來一些人後，現在共有256人，溜冰場裡進來多少人？



答：() 人

(2) 圖書館裡科學類的書籍有151本，比文學類的書籍少249本，文學類的書籍有幾本？

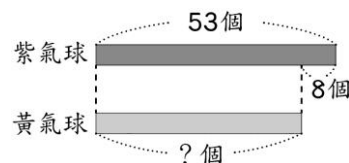


答：() 本

(3) 文具店裡有167枝鉛筆，上午賣掉81枝，下午賣掉35枝，現在文具店裡還有幾枝鉛筆？

答：() 枝

(4) 阿布用紫氣球和黃氣球布置舞臺，紫氣球用了53個，黃氣球比紫氣球少用了8個，阿布共用了幾個氣球？



答：() 個

數學第四冊第3單元 幾公尺

二年_ニ年_ニ 班_ニ 座_ニ號_ニ： 姓_ニ名_ニ：

一、填_ニ填_ニ看_ニ。每格4分，共40分

- (1) 100 cm = () m
- (2) 8m = () cm
- (3) 821 cm = () m () cm
- (4) 360 cm = () m () cm
- (5) 706 cm = () m () cm
- (6) 4 公_ニ尺_ニ 35 公_ニ分_ニ
= () 公_ニ分_ニ
- (7) 1 公_ニ尺_ニ 70 公_ニ分_ニ
= () 公_ニ分_ニ

二、在_ニ () 裡_ニ填_ニ入_ニ >、< 或_ニ =。每題4分，共16分

- (1) 700 公_ニ分_ニ () 8 公_ニ尺_ニ
- (2) 61 m () 6 m 1 cm
- (3) 350 cm () 3 m 50 cm
- (4) 4 公_ニ尺_ニ 8 公_ニ分_ニ ()
48 公_ニ分_ニ

三、圈_ニ出_ニ合_ニ理_ニ的_ニ答_ニ案_ニ。每題4分，共20分

- (1) 大_ニ王_ニ椰_ニ子_ニ樹_ニ的_ニ高_ニ度_ニ大_ニ
約_ニ是_ニ (18 m , 18 cm)。
- (2) 剪_ニ刀_ニ的_ニ長_ニ度_ニ大_ニ約_ニ是_ニ
(12 cm , 12 m)。
- (3) 彩_ニ色_ニ筆_ニ的_ニ長_ニ度_ニ大_ニ約_ニ是_ニ
(12 公_ニ分_ニ , 120 公_ニ分_ニ)。
- (4) 教_ニ室_ニ黑_ニ板_ニ的_ニ長_ニ度_ニ大_ニ約_ニ是_ニ
是_ニ
(45 公_ニ尺_ニ , 450 公_ニ分_ニ)。
- (5) 房_ニ間_ニ門_ニ的_ニ寬_ニ度_ニ大_ニ約_ニ是_ニ
(80 公_ニ分_ニ , 80 公_ニ尺_ニ)。

四、圈_ニ圈_ニ看_ニ。每題3分，共6分

- (1) 射_ニ箭_ニ比_ニ賽_ニ，小_ニ明_ニ射_ニ中_ニ紅_ニ
心_ニ的_ニ次_ニ數_ニ比_ニ小_ニ真_ニ多_ニ，小_ニ
真_ニ射_ニ中_ニ紅_ニ心_ニ的_ニ次_ニ數_ニ比_ニ
小_ニ安_ニ多_ニ，誰_ニ射_ニ中_ニ紅_ニ心_ニ的_ニ
次_ニ數_ニ最_ニ少_ニ？
(小_ニ明_ニ , 小_ニ真_ニ , 小_ニ安_ニ)
- (2) 小_ニ強_ニ的_ニ身_ニ高_ニ比_ニ小_ニ俊_ニ矮_ニ，
小_ニ智_ニ的_ニ身_ニ高_ニ比_ニ小_ニ俊_ニ高_ニ，
誰_ニ的_ニ身_ニ高_ニ最_ニ高_ニ？
(小_ニ強_ニ , 小_ニ俊_ニ , 小_ニ智_ニ)

五、把_ニ做_ニ法_ニ用_ニ算_ニ式_ニ記_ニ下_ニ來_ニ。

每題6分，共18分

- (1) 一_ニ條_ニ跑_ニ道_ニ長_ニ 85 公_ニ尺_ニ，
小_ニ佳_ニ來_ニ回_ニ跑_ニ了_ニ一_ニ次_ニ，
共_ニ跑_ニ了_ニ幾_ニ公_ニ尺_ニ？

答_ニ：() 公_ニ尺_ニ

- (2) 有_ニ一_ニ條_ニ 56 公_ニ尺_ニ長_ニ的_ニ繩_ニ
子_ニ，用_ニ掉_ニ 18 公_ニ尺_ニ後_ニ，還_ニ
剩_ニ下_ニ幾_ニ公_ニ尺_ニ？

答_ニ：() 公_ニ尺_ニ

- (3) 老_ニ闊_ニ買_ニ了_ニ一_ニ捆_ニ緞_ニ帶_ニ，包_ニ
裝_ニ花_ニ束_ニ用_ニ掉_ニ 8 公_ニ尺_ニ後_ニ，
還_ニ剩_ニ下_ニ 14 公_ニ尺_ニ，這_ニ捆_ニ
緞_ニ帶_ニ原_ニ有_ニ幾_ニ公_ニ尺_ニ？

答_ニ：() 公_ニ尺_ニ

數學第四冊第 4 單元 0、1、10 的乘法

二心年_二 班_二 座號_二：

姓_二名_二：

一、先完成下面的乘法表，再回答問題。每格 1 分，共 41 分

三、在 () 裡填入 $>$ 、 $<$ 或 $=$ 。每題 3 分，共 15 分

		乘 數									
×		1	2	3	4	5	6	7	8	9	10
被 乘 數	1	1	2		4	5			8	9	
	2	2		6	8		12	14		18	20
	3	3	6		12	15		21	24		30
	4	4		12		20		28		36	
	5	5	10	15		25	30	35	40	45	
	6	6		18	24		36		48	54	60
	7		14		28		42	49	56		
	8			24		40	48	56		72	80
	9	9	18		36		54		72		90
	10	10		30	40	50		70	80	90	

- $5 \times () = 45$
- $4 \times () = 32$
- $() \times 4 = 24$
- $() \times () = 49$

- $0 \times 8 () 8 \times 1$
- $9 \times 9 () 7 \times 7$
- $6 \times 6 () 10 \times 6$
- $10 \times 4 () 8 \times 5$
- $6 \times 9 () 8 \times 6$

四、把做法用法用乘法算式記下來。每題 5 分，共 20 分

- 每個盤子有 0 個蘋果，7 個盤子共幾個蘋果？

答：() 個

- 農夫每天種 1 棵蘋果樹，種了 9 天，共種了幾棵蘋果樹？

答：() 棵

二、填填看看。每格 2 分，共 24 分

- $3 \times 1 = ()$
- $0 \times 5 = ()$
- $4 \times 10 = ()$
- $8 \times 6 = () \times 8$
- $4 \times 7 = 7 \times ()$
- $() \times 10 = 10 \times 3$
- $8 \times () = 7 \times 8$
- 6×9 比 6×7 ，乘數多 ()，積多 ()。
- 7×4 比 7×8 ，乘數少 ()，積少 ()。
- 3×9 比 3×10 的積少 ()。

- 二心年甲班升旗隊伍排了 3 排，每排有 10 個小朋友，二心年甲班共有幾個小朋友？

答：() 個

- 小武每天存 5 元，10 天共存了幾元？

答：() 元

數學第四冊第 5 單元 年月日

二年 $\frac{3}{2}$ 班 $\frac{4}{2}$ 座號 $\frac{1}{2}$:

姓 $\frac{1}{2}$ 名 $\frac{2}{2}$:

一、填填看看。每格 4 分，共 28 分

- (1) 一年中，哪幾個月有 31 天？
() 月
- (2) 一年中，有 () 個月是平月。
- (3) 1 年有 () 個月。
- (4) 1 星期有 () 天。
- (5) 1 個月大約有 () 星期。
- (6) 閏年的 2 月有 () 天，閏年共有 () 天。

二、看看月曆回答問題。

每格 5 分，共 35 分

2月						
日	一	二	三	四	五	六
	1	2	3 游泳課	4	5	6
7	8	9	10 游泳課	11	12	13
14	15	16	17 游泳課	18	19	20
21	22	23	24 游泳課	25	26	27
28						

- (1) 小佩從 2 月 16 日到 2 月 25 日去日本旅遊，共去了 () 天，所以 2 月 () 日、() 日的游泳課，小佩要請假。
- (2) 農曆過年從 2 月 10 日開始放假一星期，結束在 () 月 () 日。
- (3) 今年的 2 月有 () 天，是 () 年。(填平年或閏年)

三、做做看看。共 37 分

- (1) 哥哥在國外打工的時，間是 1 年 4 個月，也可以說是幾個月？(7 分)
答：() 個月
- (2) 冰箱的保固時間是 20 個月，也可以說是幾年幾個月？(7 分)

答：() 年 () 個月

- (3) 7 月和 8 月共有幾天？(7 分)

答：() 天

- (4) 從 5 月 28 日到 6 月 2 日共有幾天？(8 分)

答：() 天

- (5) 蛋糕的保存期限是 10 天，也可以說是幾星期又幾天？(8 分)

答：() 星期又 () 天

數學第四冊第6單元 兩步驟的乘法

二年_ニ年_ニ班_ニ座_ニ號_ニ：

姓_ニ名_ニ：

一、把_レ做_レ法_ニ用_レ算_ニ式_ニ記_レ下_ニ來_レ。

每題10分，共100分

(1) 1包_ニ糖_ニ果_ニ有_レ10顆_ニ，妹_ニ妹_ニ買_レ了_レ2包_ニ，吃_レ掉_レ8顆_ニ，還_レ剩_レ下_ニ幾_ニ顆_ニ糖_ニ果_ニ？

答_ニ：()顆_ニ

(2) 1個_ニ橡_ニ皮_ニ擦_レ賣_レ8元_ニ，曉_ニ華_ニ買_レ了_レ10個_ニ，小_ニ銘_ニ買_レ了_レ2個_ニ，曉_ニ華_ニ比_レ小_ニ銘_ニ多_レ付_レ幾_ニ元_ニ？

答_ニ：()元_ニ

(3) 1個_ニ禮_ニ盒_ニ裡_ニ有_レ4個_ニ蘋_ニ果_ニ和_レ5個_ニ水_ニ梨_ニ，家_ニ興_ニ買_レ了_レ3盒_ニ，共_ニ有_レ幾_ニ個_ニ水_ニ果_ニ？

答_ニ：()個_ニ

(4) 小_ニ勤_ニ有_レ9個_ニ5元_ニ，買_レ肉_ニ粽_ニ花_ニ了_レ25元_ニ，小_ニ勤_ニ還_レ剩_レ下_ニ幾_ニ元_ニ？

答_ニ：()元_ニ

(5) 1袋_ニ雞_ニ蛋_ニ糕_ニ有_レ6個_ニ，奶_ニ奶_ニ買_レ了_レ4袋_ニ又_レ2個_ニ，共_ニ買_レ了_レ幾_ニ個_ニ雞_ニ蛋_ニ糕_ニ？

答_ニ：()個_ニ

(6) 1組_ニ髮_ニ圈_ニ有_レ4個_ニ，仁_ニ美_ニ買_レ了_レ5組_ニ又_レ3個_ニ，仁_ニ美_ニ共_ニ買_レ了_レ幾_ニ個_ニ髮_ニ圈_ニ？

答_ニ：()個_ニ

(7) 1盒_ニ冰_ニ棒_ニ裡_ニ有_レ3枝_ニ牛_ニ奶_ニ口_ニ味_ニ和_レ3枝_ニ草_ニ莓_ニ口_ニ味_ニ，聖_ニ元_ニ買_レ了_レ6盒_ニ，共_ニ有_レ幾_ニ枝_ニ冰_ニ棒_ニ？

答_ニ：()枝_ニ

(8) 1盒_ニ雞_ニ蛋_ニ有_レ8個_ニ，買_レ了_レ7盒_ニ，用_レ掉_レ40個_ニ，還_レ剩_レ下_ニ幾_ニ個_ニ雞_ニ蛋_ニ？

答_ニ：()個_ニ

(9) 1杯_ニ紅_ニ茶_ニ賣_レ25元_ニ，特_ニ價_ニ期_ニ間_ニ每_レ杯_ニ只_ニ賣_レ20元_ニ，哥_ニ哥_ニ買_レ了_レ6杯_ニ，共_ニ比_レ原_ニ價_ニ便_レ宜_レ幾_ニ元_ニ？

答_ニ：()元_ニ

(10) 1本_ニ筆_ニ記_レ本_ニ賣_レ10元_ニ，季_ニ萱_ニ有_レ100元_ニ，買_レ了_レ4本_ニ筆_ニ記_レ本_ニ，還_レ剩_レ下_ニ幾_ニ元_ニ？

答_ニ：()元_ニ

數學第四冊第7單元 分東西

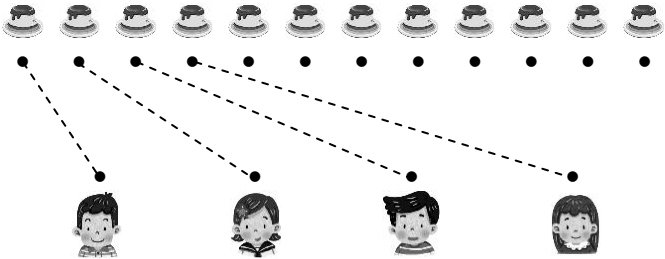
二年_上年_上 班_上 座_上號_上：

姓_上名_上：

一、分分看看，把分法畫下來。

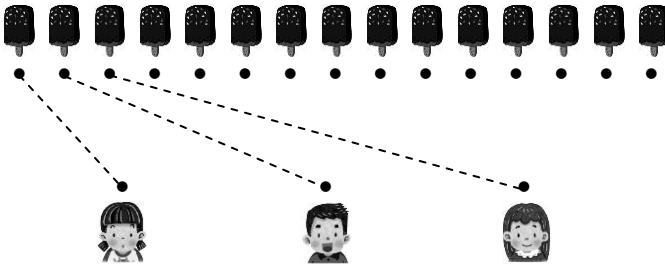
每題 10 分，共 20 分

(1) 12 個布丁平分給 4 個人，
每個_上人_上有_上幾_上個_上布_上丁_上？



答：_上() 個_上

(2) 15 枝冰棒平分給 3 個人，
每個_上人_上有_上幾_上枝_上冰_上棒_上？



答：_上() 枝_上

二、把做法用減法算式記下來。每題 10 分，共 30 分

(1) 有 24 個麻糬，每 6 個裝 1 盒，
可以裝成幾盒？

答：_上() 盒_上

(2) 15 枝鉛筆平分給 5 個人，
每個_上人_上有_上幾_上枝_上鉛_上筆_上？

答：_上() 枝_上

(3) 有 32 張卡片，每 8 張裝 1 包，
可以裝成幾包？

答：_上() 包_上

三、把做法用乘法算式記下來。每題 10 分，共 50 分

(1) 長 48 公分的紙帶，每 8 公分剪成 1 段，
共可剪成幾段？

答：_上() 段_上

(2) 有 42 個小朋友，每 6 個小朋友分成 1 組，
共可分成幾組？

答：_上() 組_上

(3) 有 48 株花苗，平分種在 6 個花盆，
每個_上花_上盆_上有_上幾_上株_上花_上苗_上？

答：_上() 株_上

(4) 18 個足球平分成 2 籃，
每_上籃_上有_上幾_上個_上足_上球_上？

答：_上() 個_上

(5) 有 35 朵花，每 7 朵綁 1 束，
共可綁成幾束？

答：_上() 束_上

數學第五冊第8單元 單位分數

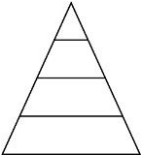
二年級 _____ 班 _____ 座 _____ 號 _____ :

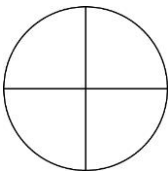
姓名 _____ :

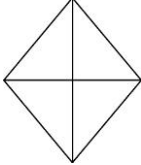
一、下面圖形有平分分的在

() 裡打 \checkmark ，沒有分的打

\times 。每題5分，共15分

(1)  ()


(2)  ()


(3)  ()


二、塗色部分各是幾條彩帶？


用分數記記看。


每題5分，共25分


 1 條

(1)  () 條

(2)  () 條

(3)  () 條


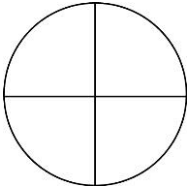
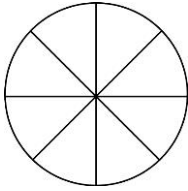
(4)  () 條

(5)  () 條

三、填填看。每格5分，共25分

- 五分之三記作 ()。
- $\frac{1}{8}$ 讀作 ()。
- 1 個披薩平分分成 12 片，1 片是 () 個披薩。
- 像 $\frac{1}{2}$ 的分數中，橫線上方的數叫作 ()，橫線下方的數叫作 ()。

四、塗塗看。每答5分，共10分

1 個圓  $\frac{1}{4}$ 個圓  $\frac{1}{8}$ 個圓 



五、哪一個答案是正確的？

在 () 裡打 \checkmark 。每題10分，共20分

◎ 1 條繩子平分分成 10 段，1 段是 $\frac{1}{10}$ 條繩子。

- $\frac{1}{10}$ 的 10 表示什麼？
() 1 條繩子平分分成 10 段。
() 10 段中的其 1 段。
- $\frac{1}{10}$ 的 1 表示什麼？
() 1 條繩子平分分成 10 段。
() 10 段中的其 1 段。

六、看圖回答問題。共5分

◎ 


$\frac{1}{2}$ 條彩帶和 $\frac{1}{8}$ 條彩帶，

哪一條彩帶比較短？

() 條

數學第四冊第9單元 面的大小與立體

二年_上年_級 班_級 座_位號_號：

姓_姓名_名：

一、下面_面的_物品_中，有_平面_的在_()裡_畫○，沒_有的_打×。每題5分，共20分

(1)



()

(2)



()

(3)



()

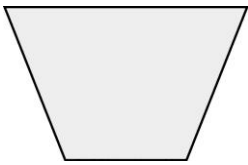
(4)



()

二、下面_圖形_中，面_比較_大的_在()裡_畫○，比_較小_的打_×。每格5分，共30分

(1)



()

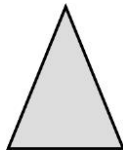


()

(2)




()



()

(3)



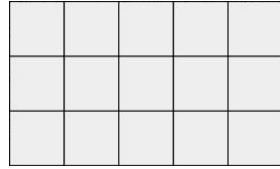
()



()

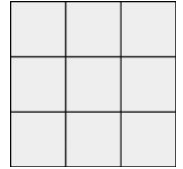
三、數_數看_，下_面的_圖形_，各_用幾_塊排_成的_？
並_回答_問題_。每格5分，共15分

ㄅ.



() 塊

ㄆ.

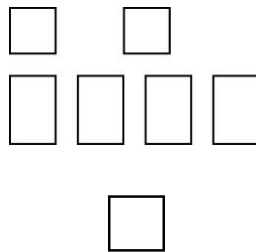


() 塊

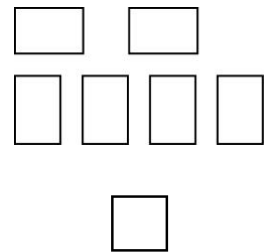
◎ 哪_一個_圖形_的面_比較_小？
() 圖_形

四、下_面哪_一組_是長_方體_？
每_個平_面所_描下_來的_面？在_()中_打√。共5分

(1)




(2)



五、看_圖填_填看_。每格5分，共30分

(1)




正_方體_有

() 個_頂點_，

() 個_邊，

() 個_面。

(2)



長_方體_有

() 個_頂點_，

() 個_邊，

() 個_面。